

Jour 1

Phrase du jour

Debout devant ma fenêtre, je pouvais voir une famille se promener.

Tâches:

- Transforme cette phrase au pluriel.
- Trouve les deux noms communs de la phrase.
- Trouve un synonyme à promener.
- Quel mot de la phrase a une lettre muette ?
- Identifie un verbe conjugué et trouve le temps auquel il est conjugué.
- Trouve 2 verbes à l'infinitif.



grammaire

Jour 2

Les sucreries

Pour se désennuyer, Katia et Leyla ont décidé de faire de la pâtisserie afin d'offrir des sucreries à leurs proches. Les deux soeurs ont choisi trois pâtisseries: des biscuits, des petits gâteaux et des tartes. Une recette de biscuits fait 12 biscuits. Une recette de gâteau fait 15 petits gâteaux et une recette de tarte peut en faire 2.

Katia et Leyla ont besoin de 36 biscuits, 20 petits gâteaux et 4 tartes.

Trouve combien de recettes de chaque pâtisserie les deux soeurs doivent faire. Elles garderont les sucreries en extra!

_____ recette(s) de biscuits
_____ recette(s) de gâteaux
_____ recette(s) de tartes




Maths

Jour 3

Raconte-moi: Ton plus bel anniversaire

Suggestions pour développer tes idées:

- 1) Qui était présent?
- 2) Qu'avez-vous fait?
- 3) Qu'avez-vous mangé?
- 4) À quel endroit étiez-vous?
- 5) As-tu eu des cadeaux?
- 6) Est-ce que les lieux étaient décorés?
- 7) Qu'est-ce qui t'a le plus marqué?



Écriture

Jour 4

le nombre du jour:
17,89

Questions:

- 1) Quel nombre vient juste avant? Quel nombre vient juste après?


_____ 17,89 _____

2) Rajoute-lui 1,85.

3) Enlève-lui 12,07.

4) Est-il plus grand, plus petit ou égal à 17,98

5) Quel est son double?



Nombre du
jour

Savais-tu que?

Les chouettes sont des rapaces nocturnes.

Recherche les informations suivantes:

- 1) Que signifie le mot *nocturne*?
- 2) Que signifie le mot *rapace*?
- 3) Vrai ou faux. Les chouettes sont les femelles des hiboux.
- 4) Les chouettes vivent-elles au Québec?
- 5) De quoi se nourrissent-elles?



Jour 1

Phrase du jour

Mon ami recevait aujourd'hui une médaille d'argent et il était très fier.

Tâches:

- Transforme cette phrase au pluriel.
- Quel est le sujet de cette phrase?
- Comment écrit-on *fier* au féminin?.
- Par quel pronom pourrait-on remplacer Mon ami?
- Trouve deux autres adjectifs pour le mot médaille.

grammaire




Jour 2

LES pages du livre

Le livre de Laurent est un documentaire. On y apprend plusieurs informations pertinentes sur les mammifères marins.

Laurent dit avoir lu le $\frac{2}{3}$ des pages de ce documentaire.

Compte tenu que le livre a 36 pages, combien de pages Laurent a-t-il lues? Combien de pages lui reste-t-il à lire?



Maths

Décris-moi: Ton jeu favori

Suggestions pour développer tes idées:

- 1) On peut y jouer à combien de joueurs?
- 2) Qui l'a inventé?
- 3) Qui te l'a fait découvrir?
- 4) Avec qui aimes-tu y jouer?
- 5) Comment on y joue?
- 6) Qu'est-ce que tu aimes le plus de ce jeu?
- 7) Quelle est la durée approximative d'une partie?



Jour 4

le nombre du jour:
399

Questions:

- 1) Quel nombre vient juste avant? Quel nombre vient juste après?


_____ 399 _____

2) Rajoute-lui 84.

3) Enlève-lui 157.

4) Combien y a-t-il de dizaines (au total) dans ce nombre?

5) Quel chiffre est à la position des unités?



Nombre du
jour

Savais-tu que?

Le lapin est un des symboles d'une fête religieuse nommée Pâques.

Recherche les informations suivantes:

- 1) Quelles religions fêtent Pâques?
- 2) Trouve un autre symbole de cette fête.
- 3) Vrai ou faux. La pâque juive dure 8 jours.
- 4) Quel est le nom original de la pâque juive?
- 5) Que célèbre les chrétiens à Pâques?



Jour 1

Phrase du jour

L'ambulancier retourne près de son patient pour prendre ses signes vitaux.

Tâches:

- Transforme cette phrase au féminin.
- Quel est le sujet de cette phrase?
- Que signifie le mot *vitaux*?
- À quel temps est conjugué le verbe retourne?
- Ajoute un adjectif au GN L'ambulancier.
- Comment est construit le GN Ses signes vitaux (nom, dét., etc.)?
- Quelle est la classe de mot de *Pour*?



grammaire

Jour 2

Les achats de Romain

Hier, Romain est allé faire des achats pour une occasion spéciale. Il célèbre la fin de son primaire et il désire fêter cet accomplissement avec sa famille. Il a donc acheté plusieurs articles pour la fête.

Il a fait l'achat d'ustensiles à 4,82. Ensuite, il a décidé de prendre 2 paquets de serviettes de table à 2,35 chaque. Il a terminé ses achats par un bouquet de ballons à 10,75\$.

Quelle est la valeur totale des achats de Romain?

_____ \$



Maths

Jour 3

Fais ton choix: Préfères-tu la natation ou la course?

Suggestions pour développer tes idées:

- 1) Prends position.
- 2) Explique ton choix à l'aide de deux arguments.
- 3) Donne des exemples.



Écriture

Jour 4

Le nombre du jour: 1052

Questions:

- 1) Quel nombre vient juste avant? Quel nombre vient juste après?

_____ 1052 _____

- 2) Rajoute-lui 118
3) Enlève-lui 72.
4) Combien y a-t-il de dizaines (au total) dans ce nombre?
5) Quel chiffre est à la position des dizaines?



Nombre du
jour

Savais-tu que?

Le Vatican est le plus petit pays du monde.

Recherche les informations suivantes:

- 1) Combien y a-t-il d'habitants dans ce pays?
- 2) Quelles sont les couleurs que l'on retrouve sur le drapeau du pays?
- 3) Quelle est la monnaie du Vatican?
- 4) Quels sont les deux sports dans lesquels le Vatican a des équipes?



Crédits

La structure de ce document a été inspirée par un document des créatrices de Prof à la deux. Par soucis éthique et par respect des créateurs, voici le lien pour leur document qui s'adresse aux élèves du 3^e cycle.

https://drive.google.com/drive/folders/1GwzAHdRY2B5Aw5SLf11PaK46hWucQLlu?usp=drive_open

Polices d'écriture utilisées:



Images:



la proferie